

SAYISAL GELİŞİM TESTİ -8

ADI:

SOYADI:

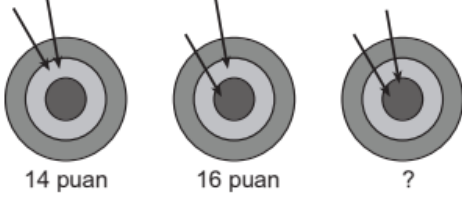
SINIFI:

SÜRE:20DK

1)(10 PUAN)

Duygu, üç kez, her seferinde iki ok atarak dart oynamıştır.

İlk oyununda (soldaki şekil) 14 puan, ikinci oyununda (ortadaki şekil) 16 puan alan Duygu, üçüncü oyununda (sağdaki şekil) kaç puan almıştır?

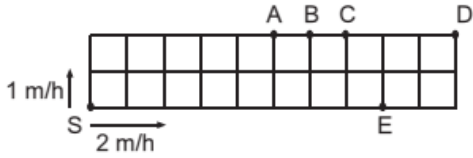


- A) 17 B) 18 C) 19 D) 20 E) 22

2) (10 PUAN)

Bir bahçe eş karelere bölünmüştür. Biri hızlı, biri yavaş olan iki salyangoz, bahçenin S köşesinden zıt yönlerde harekete başlayarak, bahçenin çevresinde yürüyorlar. Yavaş olan salyangoz saatte 1m (1m/s) hızla ve hızlı olan salyangoz saatte 2m (2m/s) hızla hareket ediyor.

Buna göre bu iki salyangoz hangi noktada karşılaşırlar?



- A) A B) B C) C D) D E) E

3) (10 PUAN)

Ayşe kareli bir kağıdın üzerinde iki basamaklı sayılarla çıkarma işlemi yapmış, sonrasında iki kareyi boyamıştır.

Şekle göre boyalı kutulardaki rakamların toplamı kaçtır?



- A) 8 B) 9 C) 12 D) 13 E) 15

4) (10 PUAN)

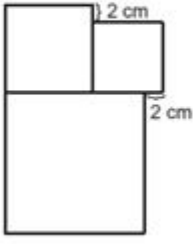
Bir zarı kaç defa attığımızda, gelen sayılardan en az birinin tekrar ettiğinden emin olabiliriz?

- A) 5 B) 6 C) 7 D) 12 E) 18

SAYISAL GELİŞİM TESTİ -8

5) (10 PUAN)

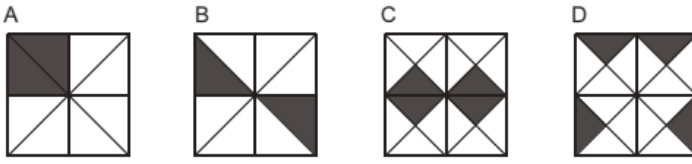
Şekildeki üç kareden en küçüğünün bir kenarı 6cm ise en büyüğünün bir kenarı ne kadardır?



- A) 8
- B) 10
- C) 12
- D) 14
- E) 16

6) (10 PUAN)

Aşağıdaki dört kareden hangisinde siyaha boyanmış alanın tüm kareye oranı en büyüktür?



- A) A
- B) B
- C) C
- D) D
- E) Hepsi aynıdır.

7) (20 PUAN)

Aşağıdaki kapılardan birinin arkasında aslan vardır. Kapıların üzerinde yazılar asıldır. Ancak bu yazıların yalnızca biri doğrudur.

Buna göre aslan hangi kapının arkasındadır?



- A) Kapı 1
- B) Kapı 2
- C) Kapı 3
- D) Üç kapı da olabilir.
- E) Bir ve ikinci kapılar olabilir.

8) (20 PUAN)

Pazartesi günü Ayşe 5 arkadaşıyla bir resim paylaşıyor. Resmi alan herkes ertesi gün bu resmi daha önce görmemiş olan iki arkadaşına yolluyor ve daha sonra kimseye yollamıyor.

Buna göre hangi gün resmi görenlerin sayısı 100'ü geçer?

- A) Çarşamba
- B) Perşembe
- C) Cuma
- D) Cumartesi
- E) Pazar